

作品名稱：費馬點的研究與應用

國中組 數學科 第三名

縣市：高雄市

作者：蕭敦仁

校名：高雄市五福國民中學

指導老師：余尚芸，張榮富

關鍵詞：費馬點



# 費馬點的研究與應用

## 一、 研究動機

未來 21 世紀高雄將跟上首都臺北的腳步---興建捷運系統，將海都高雄完全發展成最先進的都會區。高雄捷運跟台北不一樣，採地下化建築，其中紅線與橘線基本路網已經規劃好，聽爸爸說，不管是哪一路線都需建捷運主機廠，主機廠對於捷運相當於心臟對於人類，於是便想：是否能找到一個位置到各捷運站的距離和為最小，以方便控制？

又從文獻上得知在三角形中有一點到三頂點距離和為最小，稱為「費馬點」，於是即以此為出發點，對費馬點的性質來進行一系列的探討與研究。

## 二、 研究目的

- (一) 以數學方法證明費馬點的存在及其特性。
- (二) 運用物理學方法探討費馬點之相關理論。
- (三) 求作直角座標系中的費馬點驗證物理實驗結果。
- (四) 探討費馬點在生活中的應用實例。

## 三、 研究設備器材

滑輪、木條、棉線、黏土塊、方格紙、量角器、直流電源供應器、自製電路板、一對三 IC 夾。

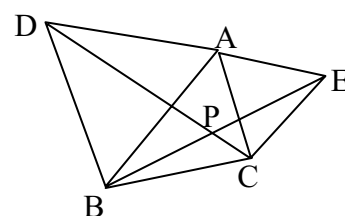
## 四、 研究過程

### (一) 以數學方法證明費馬點的存在及其特性：

I. 其實在之前就有一些有名的數學家提出相關的作法及證明，我把文獻上找到的一一列於附件說明，另外我也試著做做看是否有其他的方式可以求出費馬點：

1. 費馬點之求法（參考圖一）。

- (1) 做一三內角均小於  $120^\circ$  之  $\triangle ABC$ 。
- (2) 以  $\overline{AB}$ ， $\overline{AC}$  為一邊，分別向外側做正三角形  $\triangle ABD$  與  $\triangle ACE$ 。
- (3) 連接  $\overline{DC}$ ， $\overline{BE}$  交於 P 點，則 P 點即為所求。

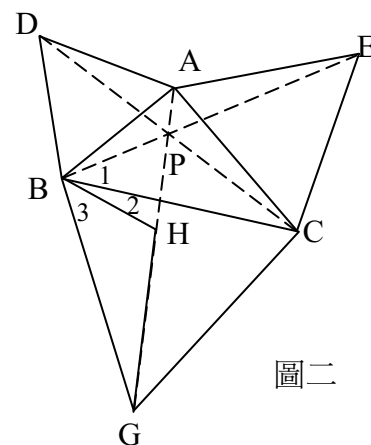


圖一

2. 費馬點的性質： $L = \overline{AP} + \overline{BP} + \overline{CP}$  為最小值。

~ 首先證明由上述作法做的費馬點存在-----

- ㄅ. (參考圖二) 旋轉  $\triangle BPC$ ，  
使  $\overline{BG}$  與  $\overline{BC}$  重合 ( $\overline{BG} = \overline{BC}$ )，  
P 點落在 H 處  
則  $\angle BPC = \angle BHG = 120^\circ$   
又  $\angle BHP = 60^\circ$  (證明在  $\square$ )  
 $\therefore \angle BHG + \angle BHP = 180^\circ$   
故 A, P, H, G 三點共線  
 $\square. \therefore \triangle BHG \cong \triangle BPC$

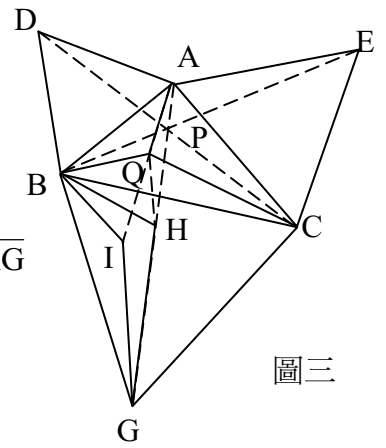


圖二

得  $\overline{HG} = \overline{PC}$  ,  $\overline{BP} = \overline{BH}$   
 $\because \angle 2 + \angle 3 = 60^\circ$  且  $\angle 1 = \angle 3$   
 $\therefore \angle 1 + \angle 2 = 60^\circ = \angle PBH$

因此  $\triangle BPH$  為正  $\triangle$  , 得  $\overline{BP} = \overline{PH}$

知存在一點 P 使得  $\overline{PA} + \overline{PB} + \overline{PC} = \overline{PA} + \overline{PH} + \overline{HG} = \overline{AG}$



圖三

~再來證明所求出的點至三頂點距離最小

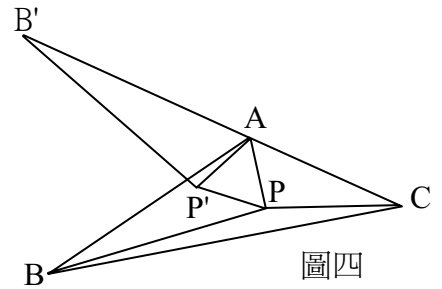
ㄅ. (參考圖三) 在  $\triangle ABC$  內另取一點 Q 異於 P ,  
 連接  $\overline{QA}$ 、 $\overline{QB}$ 、 $\overline{QC}$

ㄆ. 參考步驟 (1) 之證法同理可證得  $\overline{QA} + \overline{QB} + \overline{QC} = \overline{QA} + \overline{QI} + \overline{IG}$

ㄇ.  $\overline{QA} + \overline{QB} + \overline{QC} = \overline{QA} + \overline{QI} + \overline{IG} \geq \overline{AG} = \overline{AP} + \overline{PH} + \overline{HG} = \overline{PA} + \overline{PB} + \overline{PC}$   
 故 P 點使  $\overline{PA} + \overline{PB} + \overline{PC}$  為最小值

II. 一般費馬點的探討僅限於三角皆小於  $120^\circ$  三角形內部, 那麼如果討論任一角大於或等於  $120^\circ$  之三角形, 是否能找到一點至三頂點距離和最短? (參考圖四)

- (1)  $\triangle ABC$  的  $\angle A > 120^\circ$  , P 為  $\triangle ABC$  內部任一點  
 延長  $\overline{CA}$  至  $B'$  , 使  $\overline{AB'} = \overline{AB}$   
 做  $\angle B'AP' = \angle BAP$  , 取  $\overline{AP'} = \overline{AP}$   
 故  $\triangle B'AP' \cong \triangle BAP$  , 得  $\overline{PB} = \overline{P'B'}$  .  
 於是  $\overline{PA} + \overline{PB} + \overline{PC} = \overline{PA} + \overline{P'B'} + \overline{PC}$  ,

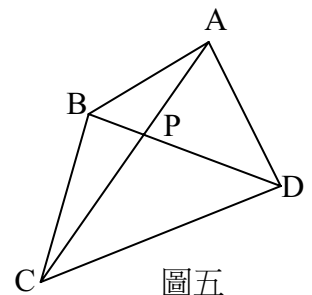


圖四

- (2) 但因  $\angle A > 120^\circ$  , 故  $\angle B'AB < 60^\circ$  ,  
 亦得  $\angle PAP' < 60^\circ$  ; 從而等腰三角形  $P'AP$   
 中  $\angle AP'P > 60^\circ$  , 故  $\overline{PA} > \overline{P'P}$   
 則  $\overline{PA} + \overline{PB} + \overline{PC} > \overline{P'P} + \overline{P'B'} + \overline{PC} > \overline{AB'} + \overline{AC}$  , 即  $\overline{PA} + \overline{PB} + \overline{PC} > \overline{AB} + \overline{AC}$   
 亦即: 如果  $\angle A > 120^\circ$  , 則 A 點即是到 A、B、C 三點距離之和最小的點。  
 (3) 證得: 若已知三角形有一內角大於或等於  $120^\circ$  , 則費馬點即為該內角的頂點。

III. 三內角皆小於  $120^\circ$  的三角形才存在費馬點, 但在日常生活中不止三角形需要找到一點到各頂點距離和最小 Y! 也就是如果改變形狀後是否能找到一點 P 點, 使得 P 點至頂點距離和最小, 我們以下就最簡單的四邊形先做討論 (參考圖五)。

- (1) 已知: 四邊形 ABCD  
 求作: ABCD 內的 P 點  
 做法: 在四邊形 ABCD 中  
 $\because$  對角線為直線  
 $\therefore$  對角線  $\overline{AC}$  為 A、C 之間的最小距離  
 同理對角線  $\overline{BD}$  為 B、D 之間的最小距離  
 發現:  $\overline{AC}$ 、 $\overline{BD}$  之交點 P 為四邊形 ABCD 內之一點  
 使得  $\overline{AP} + \overline{BP} + \overline{CP} + \overline{DP}$  為最小值  
 即 P 點至四邊形四個頂點距離和最小



圖五

- (2) 證明: (參考圖六)

在四邊形 ABCD 內另取一點 P' 異於 P

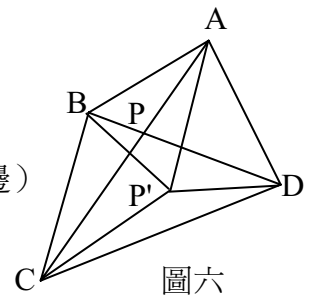
連接  $\overline{AP'}$ 、 $\overline{BP'}$ 、 $\overline{CP'}$ 、 $\overline{DP'}$

$\triangle P'BD$ 、 $\triangle AP'C$  中

$\overline{AP'} + \overline{CP'} > \overline{AC}$  且  $\overline{BP'} + \overline{DP'} > \overline{BD}$  (任兩邊和大於第三邊)

$\therefore \overline{AP'} + \overline{BP'} + \overline{CP'} + \overline{DP'} > \overline{AC} + \overline{BD} = \overline{AP} + \overline{BP} + \overline{CP} + \overline{DP}$

故 P 點使  $\overline{AP} + \overline{BP} + \overline{CP} + \overline{DP}$  為最小值



圖六

(二) 運用物理學方法探討費馬點之相關理論——常聽人說『數學是科學之母』，那是否能運用科學方法驗證費馬點的存在性或一些費馬點的性質？參考老師的意見並思考後做了一系列有關力學的實驗：

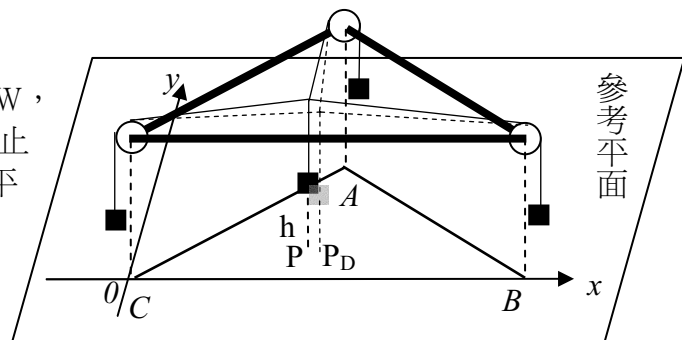
1. 實驗一：從三力平衡證明費馬點的性質—— $\overline{AP}$ 、 $\overline{BP}$ 、 $\overline{CP}$  所夾的三個角必為  $120^\circ$ 。

- (1) 以木條為邊組裝正三角形，三頂點各裝置一滑輪，取三條等長棉線一端各懸掛一等重黏土塊 W，分別由三滑輪垂下，另一端連在一起代表 P 點。
- (2) 讓重物自然垂下到達靜止狀態，量測  $\angle APB$ 、 $\angle APC$ 、 $\angle BPC$  之角度 (數據略)。
- (3) 因為三重物重量相等，三條線的張力亦相同，即  $F_1 = F_2 = F_3 = W$  在平衡時所構成的力圖形成的「封閉三角形」為正三角形，亦即該力圖之三力所夾的三個角皆為  $120^\circ$ 。
- (4) 將步驟(2)之實驗裝置垂直置於一座標平面之上方，紀錄 P 點座標，再和 (三) 求出之 P 點一次函數，以電腦程式計算是否符合。
- (5) 重複以上步驟 5 次，並改變三角形的形狀重複操作。

2. 實驗二：從實驗發現費馬點具有最低的位能的特性。

- (1) 以木條為邊組裝正三角形 ABC 置於水平面上，三頂點各裝置一滑輪，取三條等長棉線一端各懸掛一等重黏土塊 W，分別由三滑輪垂下，由實驗一已知 P 點為費馬點。

- (2) 於 P 點 (費馬點) 懸掛一黏土塊 W，讓重物自然垂直向下移動到達靜止狀態 (左圖)，量測此時 P 點與水平面之垂直距離，分別作三次後取平均值，高度為  $h_P$ 。



- (3) 將 P 點任意移向三邊  $\overline{BC}$ 、 $\overline{AC}$ 、 $\overline{AB}$  上任意點，然後將重物放開，發現不論在任何邊上，均會趨向費馬點。根據「物體會自由趨向能量最低點」的原理，可證明費馬點具有最低的位能。

- (4) 將步驟(3)之實驗過程分別紀錄得到位能高度  $h'$  (三次平均值)、 $P_{\overline{BC}}$ 、 $h_{\overline{BC}}$  (代表從  $\overline{BC}$  點釋放後的狀況，依此類推)、 $P_{\overline{AC}}$ 、 $h_{\overline{AC}}$ 、 $P_{\overline{AB}}$ 、 $h_{\overline{AB}}$  (數據略)。

(5) 重複以上步驟 3 次，並改變三角形的形狀重複操作。

### 3. 實驗三：運用電學方法驗證費馬點。

(1) 以電腦程式計算正三角形之費馬點至三頂點的距離，並各乘以一單位電阻，代表從三頂點至費馬點並聯的電阻線。將此三條電阻線連接成如圖(略)之電路圖。

(2) 開啓電源供應器，量測毫安培計的讀數（數據略）。

(3) 在三角形內隨意找三個不為費馬點的點，重複以上兩步驟。因為此時為

$\overline{AP} + \overline{BP} + \overline{CP}$  最小值，根據「電阻長度和電阻大小成正比」，此時三段電阻  $a$ 、 $b$ 、 $c$  皆為最小，所以並聯後電阻和  $\frac{abc}{ab+bc+ac}$  為最大值，使得電源開啓時，電流為  $I$  最大。

(4) 重複以上步驟 3 次，並改變三角形的形狀重複操作。

(三) 求作直角座標系中的費馬點驗證物理實驗結果——直角座標常被利用在地圖的表示上，是否我們能找出求作直角座標系中的 P 點（P 點為至各頂點距離和最小的一點）再配合電腦程式來驗證我們實驗結果？

#### (1) 三角形---

a. 為方便起見一邊固定於  $x$  軸上且一頂點為原點，做法乃利用前述 I 的想法

b. 以下先就特殊三角形——做討論再推廣至一般三角形

ㄅ. 正三角形（參考圖七）

$$\overline{AB} = \frac{\sqrt{3}}{2}x$$

$$\overline{BP} = \frac{1}{3} \times \frac{\sqrt{3}}{2}x = \frac{\sqrt{3}}{6}x$$

$$\text{故 P 點座標為 } \left( \frac{x}{2}, \frac{\sqrt{3}}{6}x \right)$$

ㄆ. 等腰三角形（參考圖八）

∵ 四邊形 AOBC 為鸞形

∴  $\overline{AB} \perp \overline{OC}$

又  $\angle OPC = 120^\circ$

因此  $\angle OPD = 60^\circ$

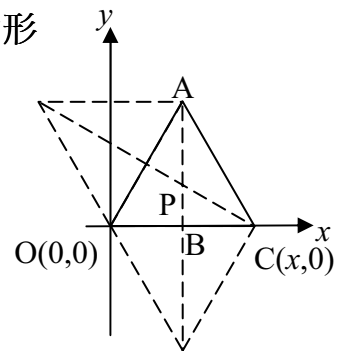
$$\text{故 } \overline{DP} = \frac{\overline{OD}}{\sqrt{3}} = \frac{\frac{x}{2}}{\sqrt{3}} = \frac{\sqrt{3}}{6}x$$

$$\text{則 P 點座標為 } \left( \frac{x}{2}, \frac{\sqrt{3}}{6}x \right)$$

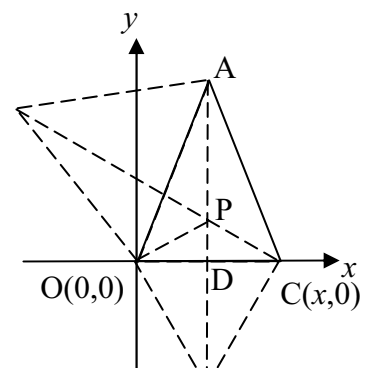
ㄇ. 直角三角形（參考圖九）

設過 P 點之函數為  $y = ax + b$

將 A, B, C, D 四點座標代入



圖七



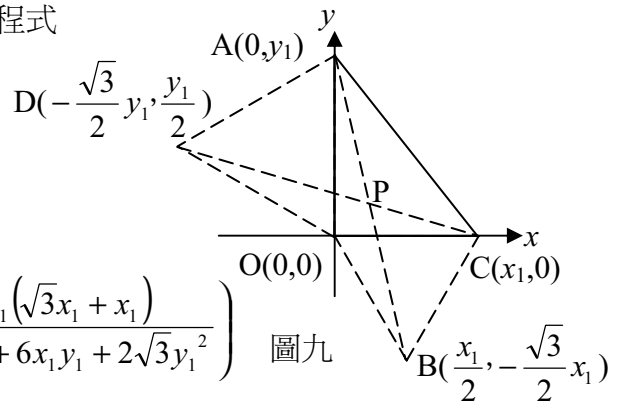
圖八

求  $\overline{AB}$ ,  $\overline{CD}$  之方程式並解聯立方程式

$$\overline{AB} : \begin{cases} y = \frac{-\sqrt{3}x_1 - 2y_1}{x_1} x + y_1 \\ \overline{CD} : \begin{cases} y = \frac{-y_1}{\sqrt{3}y_1 + 2x_1} (x - x_1) \end{cases} \end{cases}$$

得 P 點座標為

$$\left( \frac{x_1 y_1 (x_1 + \sqrt{3} y_1)}{2\sqrt{3} x_1^2 + 6x_1 y_1 + 2\sqrt{3} y_1^2}, \frac{x_1 y_1 (\sqrt{3} x_1 + x_1)}{2\sqrt{3} x_1^2 + 6x_1 y_1 + 2\sqrt{3} y_1^2} \right) \quad \text{圖九}$$



ㄱ. 等腰直角三角形

等腰直角三角形為等腰三角形之一種，故 P 點座標與等腰三角形相同。

同理 P 點座標也和直角三角形相同。

ㄴ. 任意三角形 (參考圖十)

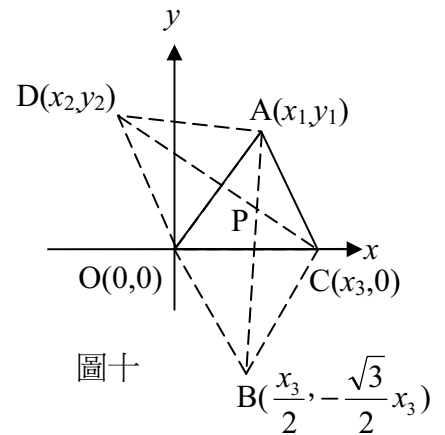
設過 P 點之函數為  $y = ax + b$

將 A, B, C, D 四點座標代入

求  $\overline{AB}$ ,  $\overline{CD}$  並解聯立方程式

$$\overline{AB} : \begin{cases} y = \frac{2y_1 + \sqrt{3}x_3}{2x_1 - x_3} x - \frac{x_3 y_1 + \sqrt{3}x_1 x_3}{2x_1 - x_3} \\ \overline{CD} : \begin{cases} y = \frac{y_2 (x - x_3)}{x_2 - x_3} \end{cases} \end{cases}$$

得 P 點座標為



$$\left( \frac{x_3 (x_2 y_1 - y_1 y_3 + \sqrt{3} x_1 x_2 - \sqrt{3} x_1 x_3 - 2x_1 y_2 + y_2 x_3)}{2x_1 y_2 - x_3 y_2 - 2y_1 x_2 - \sqrt{3} x_2 x_3 + 2x_3 y_1 + \sqrt{3} x_3^2}, \frac{x_3 (y_1 y_2 - \sqrt{3} x_1 y_2 + \sqrt{3} y_2 x_3)}{2x_1 y_2 - x_3 y_2 - 2y_1 x_2 - \sqrt{3} x_2 x_3 + 2x_3 y_1 + \sqrt{3} x_3^2} \right)$$

## (2) 四邊形---

a. 為方便起見一邊固定於 x 軸上且一頂點為原點，做法乃利用前述 III 的想法

b. 以下先就特殊四邊形一一做討論再推廣至任意四邊形

ㄱ. 正方形 (參考圖十)

$\because$  四邊形 ABCO 為正方形

$\therefore \overline{AC}$  平分  $\overline{BO}$  且  $\overline{AC} = \overline{BO}$

(正方形中對角線互相平分)

故 P 點座標為  $(\frac{x}{2}, \frac{x}{2})$

ㄴ. 長方形 (參考圖十一)

$\because$  四邊形 ABCO 為長方形

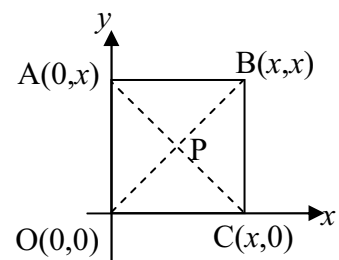
$\therefore \overline{AC}$  平分  $\overline{BO}$  且  $\overline{AC} = \overline{BO}$

(長方形中對角線互相平分)

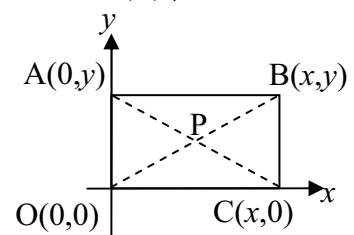
故 P 點座標為  $(\frac{x}{2}, \frac{y}{2})$

ㄷ. 平行四邊形 (參考圖十二)

$\because$  四邊形 ABCO 為平行四邊形



圖十



圖十一

$\therefore \overline{AC}$  平分  $\overline{BO}$  且  $\overline{AC} = \overline{BO}$   
 (平行四邊形中對角線互相平分)

故 P 點座標為  $(\frac{x}{2}, \frac{y}{2})$

ㄱ. 菱形 (參考圖十三)

$\therefore$  四邊形 ABCO 為菱形  
 $\therefore \overline{AC}$  平分  $\overline{BO}$  且  $\overline{AC} = \overline{BO}$   
 (菱形中對角線互相平分)

故 P 點座標為  $(\frac{x}{2}, \frac{y}{2})$

發現：若四邊形對角線互相平分，  
 則其 P 點為此四邊形對角座標之中點。

ㄴ. 等腰梯形 (參考圖十四)

作  $\overline{DE} \parallel \overline{AB} \parallel \overline{OC}$   
 $\therefore \overline{AB} \parallel \overline{DE} \parallel \overline{OC}$   
 $\therefore \triangle ABP \sim \triangle OPC$

$$\Rightarrow \frac{\overline{FP}}{\overline{PG}} = \frac{\overline{AB}}{\overline{OC}} = \frac{x_2 - \frac{x_1 - x_2}{2}}{x_1}$$

設  $\overline{PG}$  為  $\alpha$ ， $\overline{FP}$  為  $y - \alpha$

$$\frac{y - \alpha}{\alpha} = \frac{x_2 - \frac{x_1 - x_2}{2}}{x_1}$$

$$x_2 \alpha - \frac{x_1 \alpha - x_2 \alpha}{2} = x_1 y - x_1 \alpha$$

$$2x_2 \alpha - x_1 \alpha - x_2 \alpha = 2x_1 y - 2x_1 \alpha$$

$$x_2 \alpha + x_1 \alpha = 2x_1 y$$

$$(x_1 + x_2) \alpha = 2x_1 y$$

$$\therefore \alpha = \frac{2x_1 y}{x_1 + x_2}$$

又  $\therefore$  ABCO 為等腰梯形

$$\therefore \overline{OG} = \frac{\overline{OC}}{2} = \frac{x_1}{2}$$

故 P 點座標為  $(\frac{x}{2}, \frac{2x_1 y}{x_1 + x_2})$

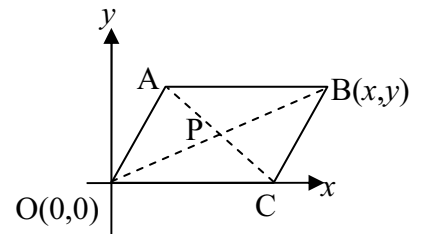
ㄷ. 兩個內角為直角的梯形 (參考圖十五)

作  $\overline{DE} \parallel \overline{AB} \parallel \overline{OC}$   
 $\therefore \overline{AB} \parallel \overline{DE} \parallel \overline{OC}$   
 $\therefore \triangle ABP \sim \triangle OPC$

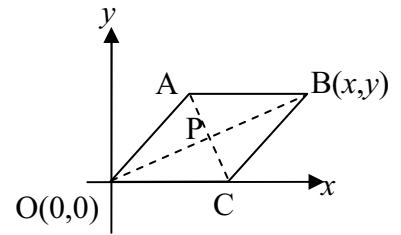
$$\Rightarrow \frac{\overline{FP}}{\overline{PG}} = \frac{\overline{AB}}{\overline{OC}} = \frac{x_2}{x_1}$$

設  $\overline{PG}$  為  $\alpha$ ， $\overline{FP}$  為  $y - \alpha$

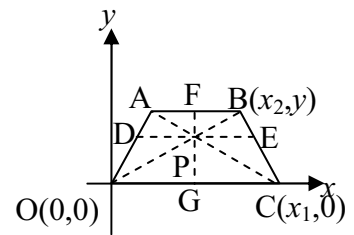
$$\frac{y - \alpha}{\alpha} = \frac{x_2}{x_1}$$



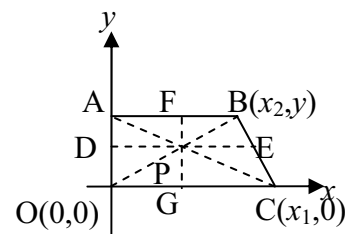
圖十二



圖十三



圖十四



圖十五

$$x_2\alpha = x_1y - x_1\alpha$$

$$\alpha(x_2 + x_1) = x_1y$$

$$\therefore \alpha = \frac{x_1y}{x_1 + x_2}$$

$$\therefore \overline{AB} \parallel \overline{DE} \parallel \overline{OC}$$

$$\therefore \triangle ADP \sim \triangle AOC$$

$$\Rightarrow \frac{\overline{DP}}{\overline{OC}} = \frac{\overline{AD}}{\overline{AO}} = \frac{\overline{FP}}{\overline{FG}} = \frac{y - \frac{x_1y}{x_1 + x_2}}{y}$$

設  $\overline{DP}$  為  $\beta$

$$\frac{\beta}{x_1} = \frac{y - \frac{x_1y}{x_1 + x_2}}{y}$$

$$y\beta = x_1y - \frac{x_1^2y}{x_1 + x_2}$$

$$\therefore \beta = \frac{x_1y - \frac{x_1^2y}{x_1 + x_2}}{y} = \frac{x_1x_2}{x_1 + x_2}$$

故 P 點座標為  $(\frac{x_1x_2}{x_1 + x_2}, \frac{x_1y}{x_1 + x_2})$

3. 任意梯形 (參考圖十六)

作  $\overline{DE} \parallel \overline{AB} \parallel \overline{OC}$

$$\therefore \overline{AB} \parallel \overline{DE} \parallel \overline{OC}$$

$$\therefore \triangle ABP \sim \triangle OPC$$

$$\Rightarrow \frac{\overline{FP}}{\overline{PG}} = \frac{\overline{AB}}{\overline{OC}} = \frac{x_2 - x_1}{x_3}$$

設  $\overline{PG}$  為  $\alpha$ ,  $\overline{FP}$  為  $y - \alpha$

$$\frac{y - \alpha}{\alpha} = \frac{x_2 - x_1}{x_3}$$

$$x_2\alpha - x_1\alpha = x_3y - x_3\alpha$$

$$x_2\alpha + x_3\alpha - x_1\alpha = x_3y$$

$$\alpha(x_2 + x_3 - x_1) = x_3y$$

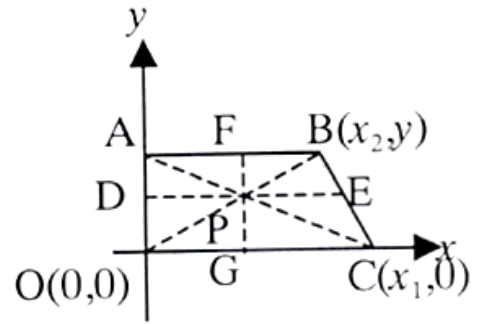
$$\therefore \alpha = \frac{x_3y}{x_2 + x_3 - x_1}$$

$$\therefore \overline{AB} \parallel \overline{DE} \parallel \overline{OC}$$

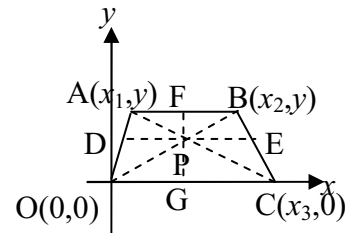
$$\therefore \triangle ADP \sim \triangle AOC$$

$$\Rightarrow \frac{\overline{DP}}{\overline{OC}} = \frac{\overline{AD}}{\overline{AO}} = \frac{\overline{FP}}{\overline{FG}} = \frac{y - \frac{x_3y}{x_2 + x_3 - x_1}}{y}$$

設  $\overline{DP}$  為  $\beta$



圖二十一



圖十六



$$\frac{\beta}{x_3} = \frac{y - \frac{x_3 y}{x_2 + x_3 - x_1}}{y}$$

$$y\beta = x_3 y - \frac{x_3^2 y}{x_2 + x_3 - x_1}$$

$$\therefore \beta = \frac{x_3 y - \frac{x_3^2 y}{x_2 + x_3 - x_1}}{y} = \frac{x_3(x_2 - x_1)}{x_2 + x_3 - x_1}$$

故 P 點座標為  $\left( \frac{x_3(x_2 - x_1)}{x_2 + x_3 - x_1}, \frac{x_3 y}{x_2 + x_3 - x_1} \right)$

(以下為方便起見，將兩頂點固定於  $x$  軸上)  
 ㄅ. 鳶形 (參考圖十七)

$\therefore \overline{BO}$  為對角線

$\therefore$  P 點在  $x$  軸上

又四邊形 ABCO 為鳶形

$\therefore \overline{AC}$  平分且  $\perp \overline{BO}$

故 P 點座標為  $\left( \frac{x}{2}, 0 \right)$

ㄍ. 任意凸四邊形 (參考圖十八)

設過 P 點之函數為  $y = ax + b$

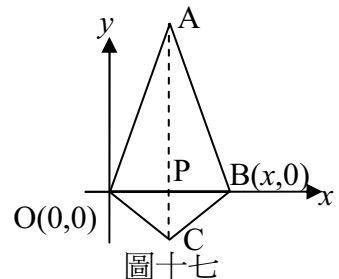
將 A, B, C, O 四點座標代入

求  $\overline{AC}$ ,  $\overline{BO}$  之方程式並解聯立方程式

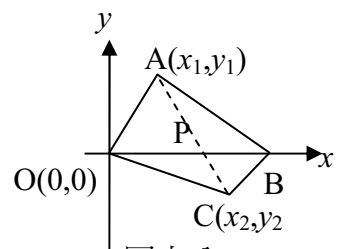
$$\overline{AC} : \begin{cases} y = \frac{y_2 - y_1}{x_2 - x_1} x - x_1 \left( \frac{y_2 - y_1}{x_2 - x_1} \right) \end{cases}$$

$$\overline{BO} : \begin{cases} y = 0 \end{cases}$$

得 P 點座標為  $\left( \frac{x_1 \left( \frac{y_2 - y_1}{x_2 - x_1} \right)}{\frac{y_2 - y_1}{x_2 - x_1}}, 0 \right)$



圖十七



圖十八

## 五、 研究結果

- (一) 經由數學方法求得之費馬點和 P 點之一次函數，以電腦程式計算後可輔助實驗進行並增加實驗精確度。
- (二) 實驗一和實驗二數據 (略) 中測量值和計算值極為接近，即可證明實驗所得之 P 點為費馬點，但於實驗中會受到摩擦力等因素的影響造成誤差。而實驗三電學方式可求出在正三角形時費馬點使得  $\overline{AP}$ 、 $\overline{BP}$ 、 $\overline{CP}$  三段電阻並聯時總電阻為最大，電流最小。而其他正三角形則尚待進一步實驗。

## 六、 討論與應用

- (一) 有一角大於或等於  $120^\circ$  的三角形中，無法利用作正三角形的作圖法求出費馬點的位置，因為利用其作圖法求出來之 P 點，會落在三角形之外，不符合 P 點至三頂點之連線所成的三個角皆等於  $120^\circ$  度，且根據證明，費馬點和大於或等於  $120^\circ$

- ° 該角之頂點為同一點。故在此有一角大於  $120^\circ$  或等於的三角形不予以討論。
- (二) 雖然凹四邊形之對角線交點在外部，但其對角線和 P 點性質與凸四邊形相同，且做法和座標也相同，因此省略不重複列出。
- (三) 我們從實驗二發現了一項費馬點在物理學上的性質：「費馬點為三角形中能量最低點」。因為在操作實驗二時，無論將 P 點移至何位置，釋放後總是會向原 P 點位置移動，即可證明原 P 點為三角形能量最小值之位置。
- (四) 實驗所得之測量值和計算值極為接近，即可證明實驗所得之 P 點為費馬點，但於實驗中會受到摩擦力等因素的影響造成誤差。
- (五) 經由實驗三研究，發現在正三角形有此種和費馬點及電學有關之性質的特性，而其他三角形，則尚待進一步研究。
- (六) 費馬點在日常生活中也被廣泛應用，只要是存在於三點之間，求一點距離和為最小值的情況，都可運用到費馬點的性質。例如在三城市中建立一變電所，要如何架設高壓電塔以減少電能的浪費，或是三戶人家之間挖掘一口井等，皆是費馬點運用的例子。

## 七、 結論

- (一) 費馬點在數學上有「三夾角皆為  $120^\circ$ 」及「到三頂點之和為最小值」兩種性質，除此之外，在物理學上也有「費馬點為三角形中能量最低點」的性質。
- (二) 頂角小於  $120^\circ$  的等腰三角形，費馬點必在底邊之高上，且底邊長度相同時，費馬點為同一點。而四邊形之「費馬點」即為對角線之交點。
- (三) 根據理論推出，費馬點至三頂點連成之線段所夾的三個角皆為  $120^\circ$ ，恰和三力平衡時三力夾角皆為  $120^\circ$  的特性相同，因此可用物理學上三力平衡的實驗找出費馬點之位置。
- (四) 經由電學裝置進行實驗，發現在正三角形內費馬點使得  $\overline{AP}$ 、 $\overline{BP}$ 、 $\overline{CP}$  三段電阻並聯時總電阻為最大，電流最小。

## 八、 參考資料及其它

### (一) 參考書目

1. 酒井高男著，(1992) 力學的趣味實驗，亞東書局出版
2. 黃家禮 (1997)，幾何明珠，九章出版
3. 佚名 (1984)，數學和數學家的故事 (下)，六藝出版
4. 佚名 (1991)，數學的魅力，凡異出版

### (二) 參考網站

1. The Fermat Point and Generalizations  
<http://www.cut-the-knot.com/Generalization/fermat-point.html>

評語：

本件作品之最大貢獻是作者能將費馬點的研究應用在物理之”力與平衡”及”電學”上，而且結果亦達預期之結果。

## 作者簡介

我是蕭敦仁，是個來自南台灣高雄市的國三學生。在升高中的升學壓力之下，不但要應付龐大的課業壓力，還要撥出時間參加科展，對自己也是個挑戰。由於這個題目是嘗試將數學和物理結合起來，以物理方法驗證數學理論，在科展史上算是個創新，能做出這樣的成果，並獲得參加全國科展的機會，自己也有些意外。