

# 尋找多邊形重心

國中組數學科第一名

桃園縣立文昌國民中學

作者：王哲麒、翁士傑

指導教師：顏芳男、王美惠

## 一、研究動機

在國中數學選修上冊，我們學到三角形的重心。我們不禁想問：「平面的圖形在物理學上並無相對的重量存在，何以會有重心呢？」但仔細想想在日常生活中我們所能接觸到的事物都不是學理上的「理想平面」，也就是說，這些事物都有厚度；再換句話說，我們可以見到許多的多邊形體，那麼這些物體就有重心囉！如果我們要找的是一個厚度均勻的物體的重心，必須先從面積著手，所以只要我們能找到多邊形的「重心」，那麼要找多邊形體的重心就不困難了。

## 二、研究目的

我們希望找到簡潔而且有系統的方法，可藉此而利用圓規、直尺作出任意凸多邊形的重心。

## 三、研究設備器材

- (一)尺
- (二)圓規
- (三)厚度均勻的壓克力板

## 四、研究過程與方法

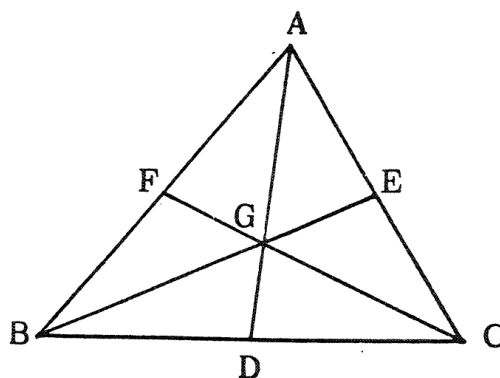
(一)預備知識

1. 三角形的重心：三角形中三中線之交點

G 稱為該三角形之重心。(如圖一)

$$\text{性質 a : } \overline{AD} : \overline{GD} = \overline{BE} : \overline{GE} = \overline{CF} : \overline{GF} = 3 : 1$$

2. 槓桿原理：如圖二，G 為支點則  $F_1 \cdot L_1 = F_2 \cdot L_2$

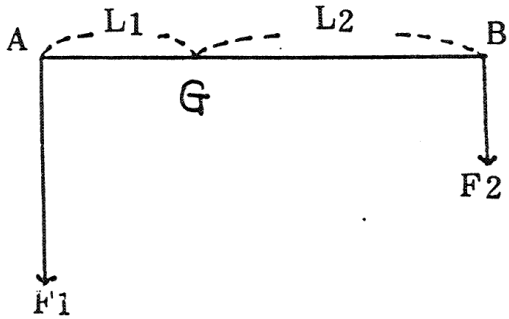


圖一

性質 b : 由  $F_1 \cdot F_1 = F_2 \cdot L_2 \Rightarrow F_1 \cdot \overline{AG} = F_2 \cdot \overline{BG} \Rightarrow \overline{AG} : \overline{BG} = F_2$   
:  $F_1$

3. 如圖三 : 在  $\overline{AB}$  上若  $\overline{AC} = \overline{BD}$  則  $\overline{BC} = \overline{AB} - \overline{AC} = \overline{AB} - \overline{BD} = \overline{AD}$

性質 c :  $\overline{BD} : \overline{AD} = \overline{AC} : \overline{BC}$



圖二



圖三

4. 相似形 : 如圖四

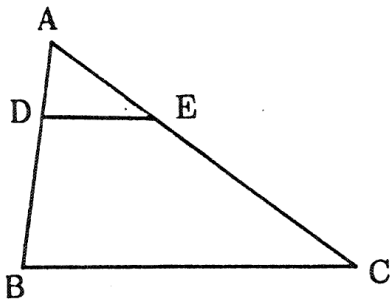
性質 d :  $\overline{DE} \parallel \overline{BC} \Leftrightarrow \overline{AD} : \overline{DB} = \overline{AE} : \overline{EC}$

性質 e :  $\overline{DE} \parallel \overline{BC} \Leftrightarrow \overline{AD} : \overline{AB} = \overline{DE} : \overline{BC} = \overline{AE} : \overline{AC}$

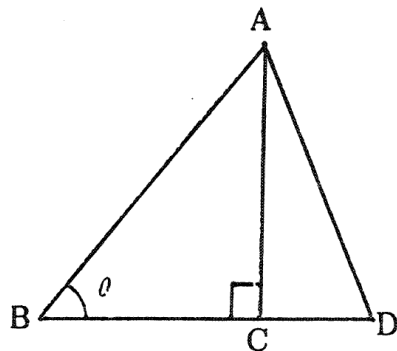
5. 三角函數 : 在  $\triangle ABC$  中若  $\angle ACB = 90^\circ$  , 令  $\theta = \angle B$

定義 :  $\sin \theta = \frac{\overline{AC}}{\overline{AB}} \Rightarrow \overline{AC} = \overline{AB} \cdot \sin \theta$  (如圖五)

性質 f :  $\triangle ABD$  面積 =  $\frac{1}{2} \cdot \overline{BD} \cdot \overline{AC} = \frac{1}{2} \cdot \overline{BD} \cdot \overline{AB} \cdot \sin \theta$



圖四



圖五

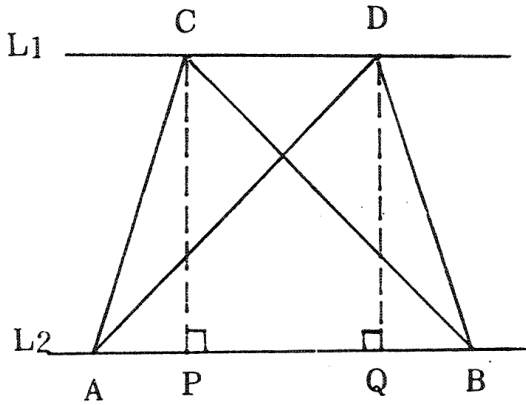
6. 性質 g : 同底等高的兩三角形面積相等如圖六 :  $L_1 \parallel L_2 \therefore \overline{CP} = \overline{DQ}$

$a \triangle ABC = \frac{1}{2} \overline{AB} \cdot \overline{CP} = \frac{1}{2} \overline{AB} \cdot \overline{DQ} = a \triangle ABD$

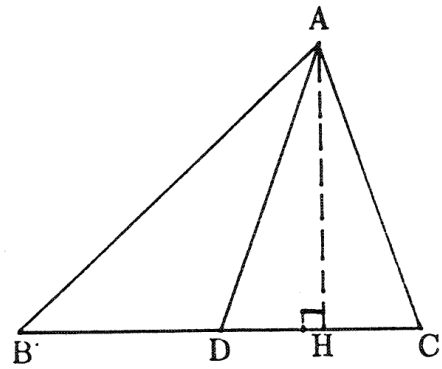
7. 性質 h : 等底同高的兩三角形面積相等

如圖七 : D 為  $\overline{BC}$  中點 ,  $\overline{AH} \perp \overline{BC} \therefore D$  為  $\overline{BC}$  中點  $\therefore \overline{BD} = \overline{CD}$

$a \triangle ABD = \frac{1}{2} \overline{BD} \cdot \overline{AH} = \frac{1}{2} \overline{CD} \cdot \overline{AH} = a \triangle ADC$



圖六



圖七

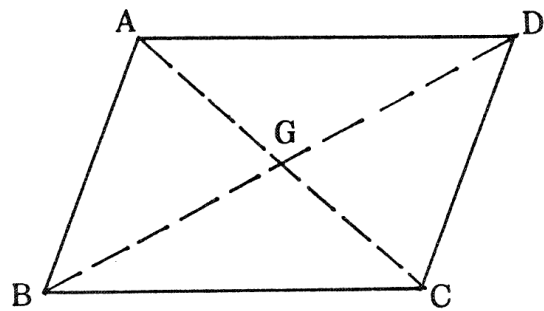
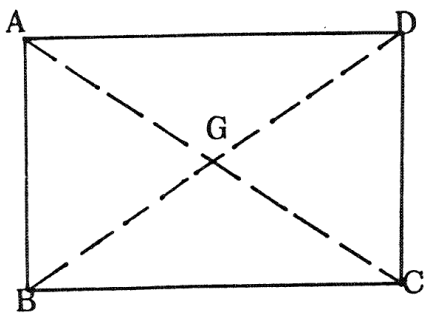
### (二) 多邊形的重心

A：以物理學的觀點來說，重心是一個物體重量的均衡點，倘若此物體是一個厚度均勻的多邊形體，如果厚度 $\rightarrow 0$ ，則可以得到一個“理想平面”，而且重心就落在此平面的面積平分線上，只要找出兩條面積平分線，其交點即為所求。上面這個推論可以在三角形上得到印證，因為三角形三中線之交點即是重心，而且每一中線都是此一三角形的面積平分線（見性質 h）。

而我們所要探討的多邊形重心就從四邊形著手，當然我們最先想到的方法就是找尋面積的平分線。

#### 1. 長方形或平行四邊形的重心

見圖八： $\because$  對角線  $\overline{AC}$ 、 $\overline{BD}$  皆為面積平分線  $\therefore \overline{AC}$  與  $\overline{BD}$  之交點 G 即為四邊形 ABCD 之重心。



圖八

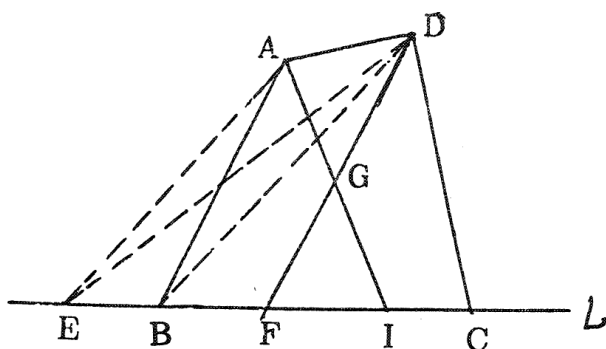
#### 2. 不規則凸四邊形的重心

當我們遇到不規則的凸四邊形時，我們該如何取面積平分線呢？如果我們能夠成功地將四邊形轉化為面積相等的三角形，則面積平分線只要連

接頂點與對邊中點即可得到，於是我們找到了下面的方法。

作法：（見圖九）

- (1) 連  $\overline{DB}$
- (2) 作  $\overline{AE} \parallel \overline{DB}$  交  $L$  於  $E$
- (3) 連  $\overline{DE}$
- (4) 取  $\overline{CE}$  中點  $F$
- (5) 連  $\overline{DF}$ ， $\overline{DF}$  即為四邊形  $ABCD$  之面積平分線 #



圖九

證明：

$\because \overline{AE} \parallel \overline{DB}$  By 性質 g  $\therefore a \triangle ADB = a \triangle EBD$

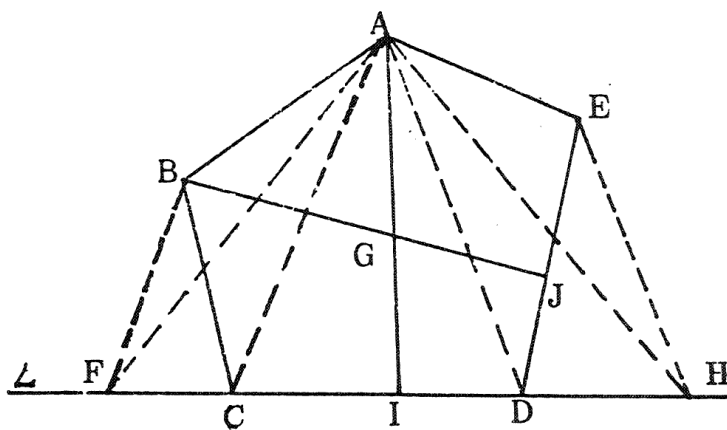
$$a \text{ 四邊形 } ABCD = a \triangle DBC + a \triangle ADB = a \triangle DBC + a \triangle EBD \\ = a \triangle DEC$$

$\because F$  為  $\overline{CE}$  中點  $\therefore \overline{DF}$  平分  $\triangle DEC$  (By 性質 h) 即  $\overline{DF}$  為四邊形  $ABCD$  之面積平分線。

所以我們要找四邊形  $ABCD$  的重心，只要再依上述的方法再作一條面積平分線  $\overline{AI}$ （見圖九），則  $\overline{AI}$  與  $\overline{DF}$  之交點  $G$  即為四邊形  $ABCD$  之重心。

### 3. 不規則凸五邊形的重心

作法：（見圖十）



圖十

- (1) 連  $\overline{AC}$ 、 $\overline{AD}$
- (2) 作  $\overline{BF} \parallel \overline{AC}$ ； $\overline{EH} \parallel \overline{AD}$  分別交  $L$  於  $F$ 、 $H$
- (3) 連  $\overline{AF}$ 、 $\overline{AH}$ ；取  $\overline{FH}$  中點  $I$
- (4) 連  $\overline{AI}$

(5)同法可得  $\overline{BJ}$

(6)得  $\overline{AI}$  與  $\overline{BJ}$  之交點  $G$ ，即為所求 #

證明：

$$\because \overline{BF} \parallel \overline{AC}, \overline{EH} \parallel \overline{AD}$$

$$\text{by 性質 g } a \triangle ABC = a \triangle ACF \& a \triangle AED = a \triangle ADH$$

$$\begin{aligned} \therefore a \text{ 五邊形 } ABCDE &= a \triangle ABC + a \triangle ACD + a \triangle AED \\ &= a \triangle ACF + a \triangle ACD + a \triangle ADH = a \triangle AFH \end{aligned}$$

$$\text{又} \because I \text{ 爲 } \overline{FH} \text{ 中點 } \text{ by 性質 h } a \triangle AFI = a \triangle AHI$$

$$\therefore \overline{AI} \text{ 爲五邊形 } ABCDE \text{ 之面積平分線}$$

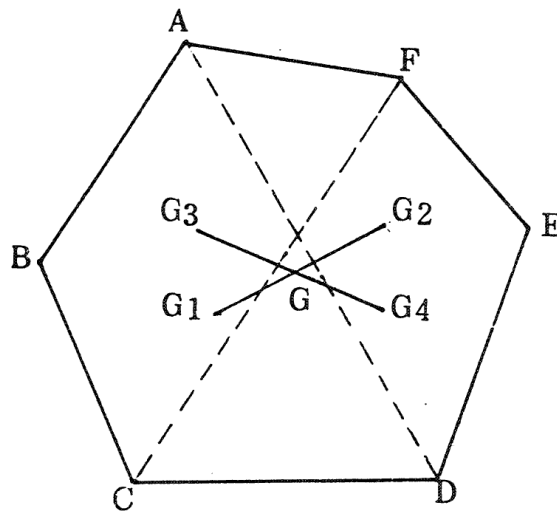
同理  $\overline{BJ}$  亦為五邊形  $ABCDE$  之面積平分線

$$\therefore \overline{AI} \text{ 與 } \overline{BJ} \text{ 之交點 } G \text{ 即爲五邊形 } ABCDE \text{ 之重心。 \#}$$

4. 可是這個方法在面臨六邊形或更多邊形時，要找到面積平分線不容易。

經過反覆的思考，我們發現可以從兩個方向來處理：（以六邊形為例）

(1) 分別找出四邊形  $ABCD$ 、 $AFED$ 、 $ABCF$ 、 $CDEF$  之重心  $G_1$ 、 $G_2$ 、 $G_3$ 、 $G_4$ ，則重心即在  $\overline{G_1 G_2}$  與  $\overline{G_3 G_4}$  之交點  $G$ 。（如圖十一）



圖十一

(2) 只求四邊形  $ABCD$ 、 $AFED$  之重心  $G_1$ 、 $G_2$  則重心必落在

$\overline{G_1 G_2}$  上，利用槓桿原理，可以推得重心  $G$  所在位置有下列之關係

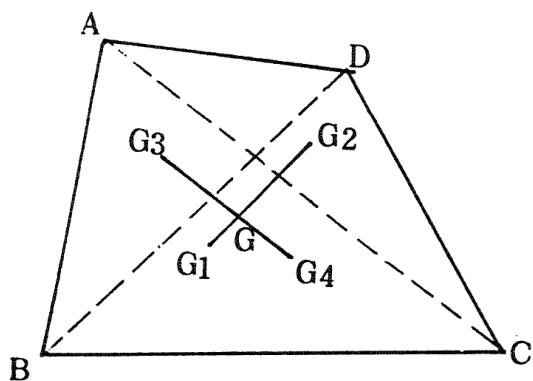
$$: (\text{見圖十一}) \overline{GG_1} : \overline{GG_2} = a \text{ 四邊形 } AFED : a \text{ 四邊形 } ABCD$$

(3) 為了找尋較有系統的方法，我們依照上述兩個方向再回到四邊形作討論，分別在  $B$ 、 $C$  兩部分討論。

**B**：重心在多邊形部分重心連線之交點上

在(一)、A、4、(1)中，我們已簡略地說明這一部分所要討論的方向。而在物理學上倘若我們將一多邊形 $S$ 分成 $S_1$ 、 $S_2$ 兩部分則分別存在 $S_1$ 、 $S_2$ 之重心 $G_1$ 、 $G_2$ ，則 $S$ 之重心在 $G_1$ 與 $G_2$ 之連線段上，依此法再將多邊形 $S$ 分成 $S_3$ 、 $S_4$ 兩部分，同理 $S$ 之重心亦落在 $S_3$ 、 $S_4$ 之重心 $G_3$ 、 $G_4$ 的連線段上，則 $\overline{G_1 G_2}$ 與 $\overline{G_3 G_4}$ 之交點即為 $S$ 之重心 $G$ 。

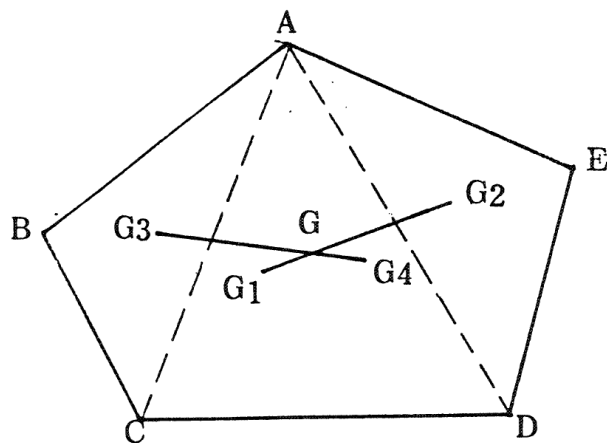
1. 四邊形：（見圖十二）



圖十二

若 $G_1$ 、 $G_2$ 、 $G_3$ 、 $G_4$ 分別為 $\triangle ABC$ 、 $\triangle ADC$ 、 $\triangle ABD$ 、 $\triangle BCD$ 之重心，則 $\overline{G_1 G_2}$ 與 $\overline{G_3 G_4}$ 之交點 $G$ 即為此四邊形 $ABCD$ 之重心。

2. 五邊形：（見圖十三）



圖十三

若 $G_1$ 、 $G_2$ 、 $G_3$ 、 $G_4$ 分別是四邊形 $ABCD$ 、 $\triangle ADE$ 、 $\triangle ABC$ 、四邊形 $ACDE$ 之重心，則 $\overline{G_1 G_2}$ 與 $\overline{G_3 G_4}$ 之交點 $G$ 即為此五邊形 $ABCDE$ 之重心。

3. 六邊形的重心已在前面提過，依此方法我們獲得初步的結論：

欲尋求一多邊形 $S$ 之重心，如果 $S$ 超過五邊形，我們不容易利用面積平

分線求重心，但可以先將  $S$  分成  $S_1$ 、 $S_2$  兩部分而找到一組部分重心之連線段  $\overline{G_1 G_2}$ ，再將  $S$  分成另外之  $S_3$ 、 $S_4$  兩部分而找到另一部分重心之連線段  $\overline{G_3 G_4}$ ，則  $S$  之重心即落在  $\overline{G_1 G_2}$  與  $\overline{G_3 G_4}$  之交點上。

4. 這個方法雖然可以彌補邊數太多而難以作出面積平分線的缺點，但所要找的部分重心太多，所以並不太理想，所以再從另一個方向來討論。

C：在(一)、A、4、(2)中我們已說明了這一部分所欲討論的方向，現在我們再回到四邊形來討論：

#### 1. 四邊形（見圖十四）

(1) 若  $G_1$ 、 $G_2$  分別為  $\triangle ABC$  與  $\triangle ADC$  之重心，則四邊形  $ABCD$  之重心必在  $\overline{G_1 G_2}$  上，利用物理學的槓桿原理， $G$  的所在位置必有下列關係：

$$\overline{G_1 G} : \overline{G_2 G} = a \triangle ADC : a \triangle ABC$$

$$\begin{aligned} \text{Now } a \triangle ADC &= \frac{1}{2} \overline{AC} \cdot \overline{OD} \cdot \sin \theta \\ a \triangle ABC &= \frac{1}{2} \overline{AC} \cdot \overline{OB} \cdot \sin \theta \quad (\text{By 性質 f}) \end{aligned}$$

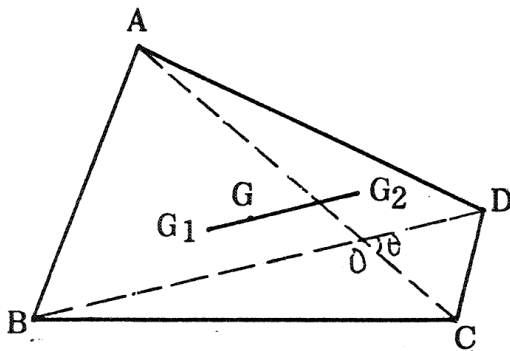
$$\therefore a \triangle ADC : a \triangle ABC$$

$$= \frac{1}{2} \overline{AC} \cdot \overline{OD} \cdot \sin \theta : \frac{1}{2} \overline{AC} \cdot \overline{OB} \cdot \sin \theta = \overline{OD} : \overline{OB}$$

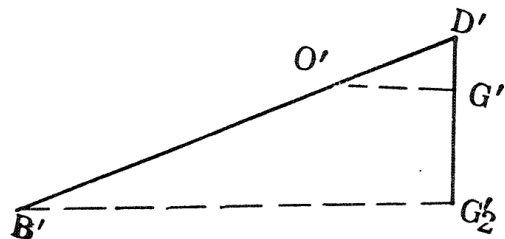
$$\text{即 } \overline{G_1 G} : \overline{G_2 G} = \overline{OD} : \overline{OB}$$

$\therefore$  我們希望將  $\overline{G_1 G_2}$  分為  $\overline{G_1 G} : \overline{G_2 G} = \overline{OD} : \overline{OB}$  於是我們找到了下面的方法：

作法：（見圖十四、十五）



圖十四



圖十五

- ① 作  $\triangle ABC$  與  $\triangle ADC$  之重心  $G_1$ 、 $G_2$ ，連  $\overline{G_1 G_2}$
- ② 連對角線  $\overline{AC}$ 、 $\overline{BD}$  交於  $O$ ； $\theta = \angle AOB = \angle COD$
- ③ 作  $\overline{D'B'} = \overline{DB}$ ，且在  $\overline{D'B'}$  上取一點  $O'$  使得  $\overline{D'O'} = \overline{DO}$
- ④ 作  $\overline{D'D'_2} = \overline{G_1 G_2}$

⑤連  $\overline{B'G'_2}$

⑥過  $O'$  作  $\overline{O'G'} \parallel \overline{B'G'_2}$  交  $\overline{D'G'_2}$  於  $G'$

⑦以  $G_1$  為圓心， $\overline{D'G'}$  為半徑，畫弧交  $\overline{G_1G_2}$  於  $G$ ， $G$  即為所求 #

證明： $\because \overline{O'G'} \parallel \overline{B'G'_2} \therefore \overline{D'O'} : \overline{O'B'} = \overline{D'G'} : \overline{G'G'_2} \dots\dots (a)$

又： $\because \overline{G_1G_2} = \overline{D'G'_2}$ 、 $\overline{G_1G} = \overline{D'G'}$   $\therefore \overline{GG_2} = \overline{G'G'_2} \dots\dots (b)$

$\overline{DB} = \overline{D'B'}$ 、 $\overline{DO} = \overline{D'O'}$   $\therefore \overline{OB} = \overline{O'B'}$   $\dots\dots (c)$

by (a)(b)(c)  $\overline{G_1G} : \overline{G_2G} = \overline{D'G'} : \overline{G'G'_2} = \overline{D'O'} : \overline{O'B'} = \overline{DO} : \overline{OB}$   
 $\dots\dots (※)$

(2)承(1)& by 性質 C (見圖三、十四、十六)

在  $\triangle XBD$  中，若取  $O_1$  使得

$$\overline{BO_1} = \overline{DO}$$

by 性質 C  $\overline{BO_1} : \overline{O_1D} = \overline{DO} : \overline{OB}$

連  $\overline{XO_1}$  交  $\overline{G_1G_2}$  於  $M$ ， $\overline{AC}$  交  $\overline{G_1G_2}$  於  $N$

$\because G_1, G_2$  分別為  $\triangle ABC$  及  $\triangle ADC$  之重心

$\therefore$  by 性質 a

$$\overline{XG_1} : \overline{XB} = 1 : 3 = \overline{XG_2} : \overline{XD}$$

by 性質 e  $\therefore \overline{G_1G_2} \parallel \overline{BD}$

圖十六

Now  $\overline{G_1G_2} \parallel \overline{BD} \therefore \overline{G_1M} \parallel \overline{BO_1}$  &  $\overline{G_2N} \parallel \overline{DO}$

by 性質 a、e

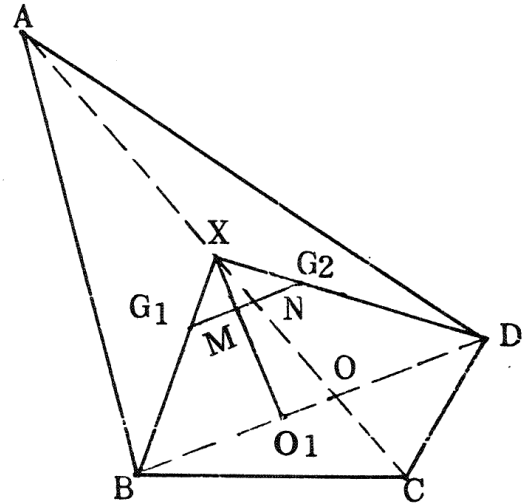
$$\frac{\overline{G_1M}}{\overline{BO_1}} = \frac{\overline{XG_1}}{\overline{XB}} = \frac{1}{3} = \frac{\overline{XG_2}}{\overline{XD}} = \frac{\overline{G_2N}}{\overline{DO}}$$

即  $\frac{\overline{G_1M}}{\overline{BO_1}} = \frac{\overline{G_2N}}{\overline{DO}} \because \overline{BO_1} = \overline{DO} \therefore \overline{G_1M} = \overline{G_2N} \# \dots\dots (*)$

Now  $\overline{G_1M} = \overline{G_2N}$  by 性質 C， $\frac{\overline{G_1M}}{\overline{G_2M}} = \frac{\overline{G_2N}}{\overline{G_1N}} \dots\dots (a)$

$\because \overline{G_1G_2} \parallel \overline{BD} \therefore \overline{G_2N} \parallel \overline{DO}$ 、 $\overline{G_1N} \parallel \overline{BO}$

$\Rightarrow \frac{\overline{G_2N}}{\overline{DO}} = \frac{\overline{XN}}{\overline{XO}} = \frac{\overline{G_1N}}{\overline{BO}} \Rightarrow \frac{\overline{G_2N}}{\overline{G_1N}} = \frac{\overline{DO}}{\overline{BO}} \dots\dots (b)$





by (a)(b)  $\frac{\overline{G_1 M}}{\overline{G_2 M}} = \frac{\overline{DO}}{\overline{BO}}$  與 (\*) 比較

我們知道M即是四邊形ABCD之重心G，而在(\*)中M點的特性是使得  $\overline{G_1 M} = \overline{G_2 N}$

結論：經由這一連串的推論與驗證我們知道，要求得四邊形ABCD的重心，只要先求得 $\triangle ABC$ 與 $\triangle ADC$ 之重心 $G_1$ 、 $G_2$ ；若 $\overline{AC}$ 交 $\overline{G_1 G_2}$ 於N，只要在 $\overline{G_1 G_2}$ 上取一點G使得 $\overline{G_1 G} = \overline{G_2 N}$ 即可。

(3)在圖十六中我們發現了一個有趣的現象(見圖十七)若 $G_1$ 、 $G_2$ 分別為 $\triangle ABC$ 及 $\triangle ADC$ 之重心。M為四邊形ABCD之重心。E、F分別為 $\overline{BC}$ 及 $\overline{CD}$ 中點毫無疑問的A、 $G_1$ 、E及A、 $G_2$ 、F分別三點共線

作 $\overline{AM}$ 交 $\overline{EF}$ 於P、設 $\overline{AC}$ 交 $\overline{EF}$ 於Q，那麼P與E、F、Q有何關係呢？而A、M、P三點是否也有特殊的關係呢？

現在讓我們來瞧瞧！

$\because$  E、F分別為 $\overline{BC}$ 及 $\overline{CD}$ 中點

$$\therefore \overline{EF} \parallel \overline{BD}$$

$$\text{又} \because \overline{G_1 G_2} \parallel \overline{BD}$$

$$\therefore \overline{G_1 G_2} \parallel \overline{EF} \quad \text{即} \quad \overline{G_1 M} \parallel \overline{EP} \quad \& \quad \overline{G_2 N} \parallel \overline{FQ}$$

$$\Rightarrow \frac{\overline{G_1 M}}{\overline{EP}} = \frac{\overline{AG_1}}{\overline{AE}} = \frac{2}{3} = \frac{\overline{AG_2}}{\overline{AF}}$$

$$= \frac{\overline{G_2 N}}{\overline{FQ}} \quad \text{即} \quad \frac{\overline{G_1 M}}{\overline{EP}} = \frac{\overline{G_2 N}}{\overline{FQ}}$$

$$\therefore \overline{G_1 M} = \overline{G_2 N} \quad (\text{See } *) \therefore \overline{EP} = \overline{FQ} \dots \dots \dots (a)$$

$$\text{而且} \because \overline{G_1 M} \parallel \overline{EP} \quad \text{by 性質 d、e} \quad \frac{\overline{MP}}{\overline{AP}} = \frac{\overline{G_1 E}}{\overline{AE}} = \frac{1}{3} \dots \dots \dots (b)$$

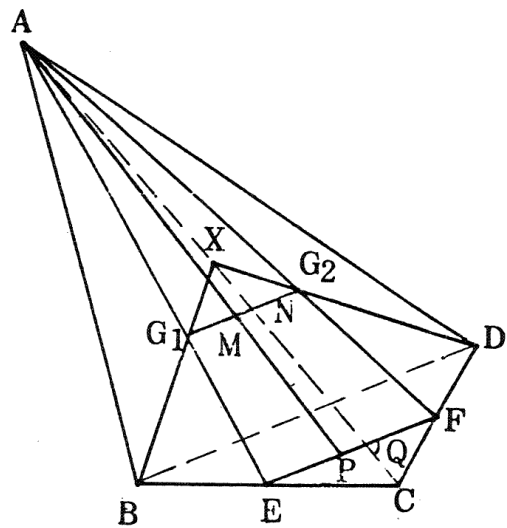
由(a)(b)我們可以知道： $\overline{EP} = \overline{FQ}$ 且 $\overline{MP} = \frac{1}{3} \overline{AP}$

我們不禁要想，是否找重心有另一種方法呢？

作法：見圖十七

①取 $\overline{BC}$ 、 $\overline{CD}$ 中點E、F

②連 $\overline{EF}$ 交 $\overline{AC}$ 於Q



圖十七

③在  $\overline{EF}$  上取一點 P 使得  $\overline{EP} = \overline{FQ}$

④連  $\overline{AP}$ ，且在  $\overline{AP}$  上取一點 M 使得  $\overline{PM} = \frac{1}{3}\overline{AP}$

⑤M 即是四邊形 ABCD 之重心 #

證明：見圖十七

$\because G_1、G_2$  分別為  $\triangle ABC$  及  $\triangle ADC$  之重心，而且  $\overline{MP} = \frac{1}{3}\overline{AP}$

$$\therefore \frac{\overline{G_1 E}}{\overline{A E}} = \frac{\overline{MP}}{\overline{AP}} = \frac{\overline{G_2 F}}{\overline{A F}} = \frac{1}{3}$$

$\therefore \overline{G_1 M} \parallel \overline{EP}$  即  $\overline{G_1 M} \parallel \overline{EF}$  又  $\overline{G_1 N} \parallel \overline{G_2} \parallel \overline{EF}$

$\Rightarrow G_1、M、N、G_2$  四點共線 (N 為  $\overline{AC}$  與  $\overline{G_1 G_2}$  交點)

$$\Rightarrow \frac{\overline{G_1 M}}{\overline{E P}} = \frac{\overline{A G_1}}{\overline{A E}} = \frac{2}{3} = \frac{\overline{A G_2}}{\overline{A F}} = \frac{\overline{G_2 N}}{\overline{F Q}} \Rightarrow \frac{\overline{G_1 M}}{\overline{E P}} = \frac{\overline{G_2 N}}{\overline{F Q}}$$

$\Rightarrow \because \overline{EP} = \overline{FQ} \quad \therefore \overline{G_1 M} = \overline{G_2 N}$

by (一)、C、1、(2) 之 (\*) 我們已經證實了 M 即是四邊形 ABCD 之重心。

## 2. 五邊形的重心

從上面我們可以歸納出兩種方法來

(1) 作法：見圖十八

①作  $\triangle ABC、\triangle ACD、\triangle ADE$  之重心  $G_1、G_2、G_3$

②連  $\overline{G_1 G_2}$  交  $\overline{AC}$  於 P、連  $\overline{G_2 G_3}$  交  $\overline{AD}$  於 Q

③在  $\overline{G_1 G_2}$  上作  $\overline{G_2 M}$

$= \overline{G_1 P}$ 、在  $\overline{G_2 G_3}$

上作  $\overline{G_2 N} = \overline{G_3 Q}$

④連  $\overline{G_1 N}、\overline{G_3 M}$  相

交於 G 即為所求 #

證明：四邊形 ABCD

中  $\because \overline{G_2 M} = \overline{G_1 P}$

$\therefore M$  為四邊形 ABCD

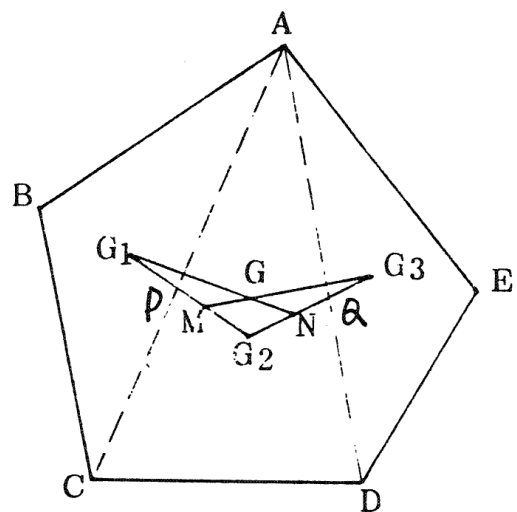
之重心

同理 N 為四邊形 ACD

E 之重心

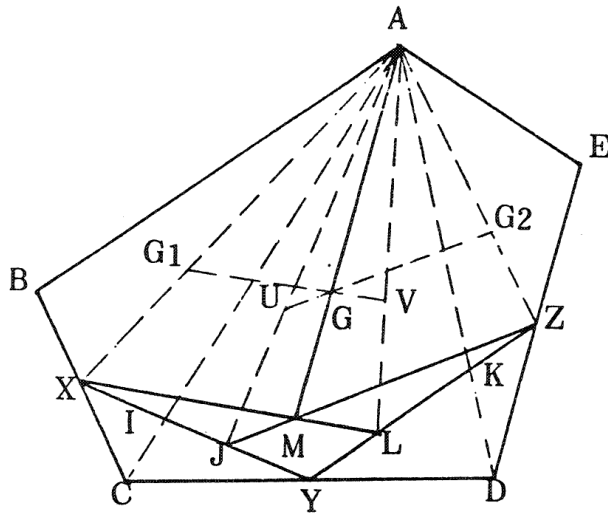
而  $G_1、G_3$  分別為  $\triangle ABC$  及  $\triangle ADE$  之重心

$\therefore \overline{G_1 N}$  與  $\overline{G_3 M}$  之交點 G 即為五邊形 ABCDE 之重心 #



圖十八

(2)作法：見圖十九



圖十九

- ①取  $\overline{BC}$ 、 $\overline{CD}$ 、 $\overline{DE}$  之中點  $X$ 、 $Y$ 、 $Z$
- ②連  $\overline{XY}$  交  $\overline{AC}$  於  $I$ 、連  $\overline{YZ}$  交  $\overline{AD}$  於  $K$
- ③  $\overline{XY}$  上取  $\overline{XJ} = \overline{XI}$ 、在  $\overline{YZ}$  上取  $\overline{YL} = \overline{KZ}$
- ④連  $\overline{XL}$ 、 $\overline{ZJ}$ 、令  $\overline{XL}$  交  $\overline{ZJ}$  於  $M$
- ⑤在  $\overline{AM}$  上取一點  $G$  使得  $\overline{MG} = \frac{1}{3} \overline{AM}$ ， $G$  點即為所求 #

證明：若  $G_1$ 、 $G_2$  分別為  $\triangle ABC$  與  $\triangle ACE$  之重心

在  $\overline{AJ}$  上取一點  $U$  使得  $\overline{UJ} = \frac{1}{3} \overline{AJ}$

在  $\overline{AL}$  上取一點  $V$  使得  $\overline{VL} = \frac{1}{3} \overline{AL}$

則  $U$ 、 $V$  分別為四邊形  $ABCD$ 、 $ACDE$  之重心

$$\text{連 } \overline{G_1 G}、\overline{GV} \text{ 則 } \frac{\overline{AX}}{\overline{XG_1}} = \frac{3}{1} = \frac{\overline{AM}}{\overline{MG}} = \frac{3}{1} = \frac{\overline{AL}}{\overline{VL}} \therefore \overline{G_1 G} \parallel \overline{XL} \parallel \overline{GV}$$

$\therefore G_1$ 、 $G$ 、 $V$  三點共線 同理  $G_2$ 、 $G$ 、 $U$  三點共線

且  $G$  為  $\overline{G_1 V}$  與  $\overline{G_2 U}$  之交點

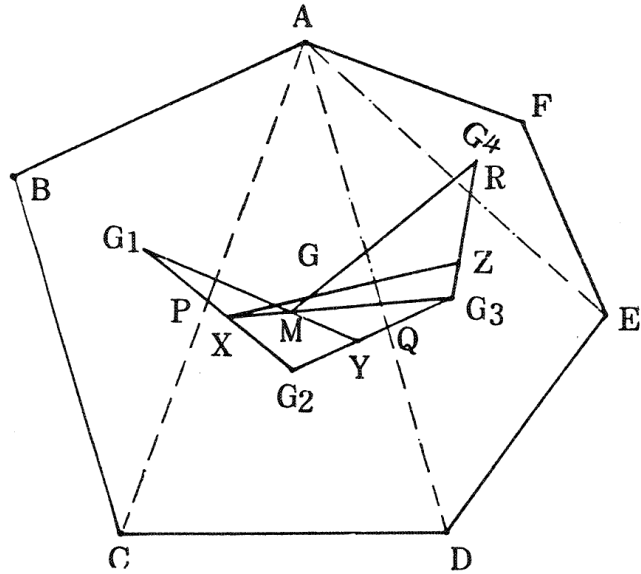
by (C) 2 (1) 即上面已經證明了

$\therefore G$  為五邊形  $ABCDE$  之重心 #

### 3. 六邊形的重心

(1)作法：見圖二十

- ①作  $\triangle ABC$ 、 $\triangle ACD$ 、 $\triangle ADE$ 、 $\triangle AEF$  之重心  $G_1$ 、 $G_2$ 、 $G_3$ 、 $G_4$
- ②連  $\overline{G_1 G_2}$  交  $\overline{AC}$  於  $P$ 、連  $\overline{G_2 G_3}$  交  $\overline{AD}$  於  $Q$  連  $\overline{G_3 G_4}$  交  $\overline{AE}$  於  $R$



圖二十

- ③ 在  $\overline{G_1 G_2}$  上取一點  $X$  使得  $\overline{G_2 X} = \overline{G_1 P}$   
 在  $\overline{G_2 G_3}$  上取一點  $Y$  使得  $\overline{G_2 Y} = \overline{G_3 Q}$   
 在  $\overline{G_3 G_4}$  上取一點  $Z$  使得  $\overline{G_3 Z} = \overline{G_4 R}$

④ 連  $\overline{G_1 Y}$ 、 $\overline{G_3 X}$  令  $\overline{G_1 Y}$  交  $\overline{G_3 X}$  於  $M$

⑤ 連  $\overline{XZ}$ 、 $\overline{G_4 M}$  令  $\overline{XZ}$  交  $\overline{G_4 M}$  於  $G$ ，即為所求 #

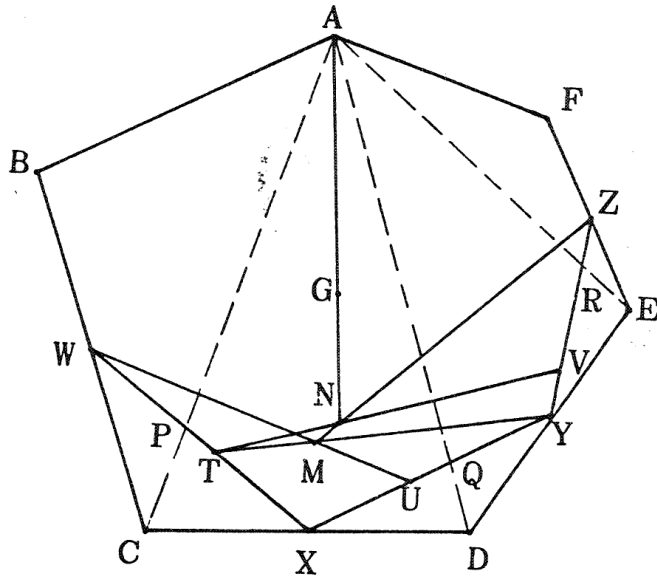
證明： $G_1$ 、 $G_2$ 、 $G_3$ 、 $G_4$  分別為  $\triangle ABC$ 、 $\triangle ACD$ 、 $\triangle ADE$ 、 $\triangle AEF$  之重心

而  $X$ 、 $Y$ 、 $Z$  分別為四邊形  $ABCD$ 、 $ACDE$ 、 $ADEF$  之重心則  
 $\overline{XG_3}$  與  $\overline{YG_1}$  之交點  $M$  為五邊形  $ABCDE$  之重心

$\therefore \overline{G_4 M}$  與  $\overline{XZ}$  之交點  $G$  即為六邊形  $ABCDEF$  之重心 #

(2)作法：見圖二十一

- ① 取  $\overline{BC}$ 、 $\overline{CD}$ 、 $\overline{DE}$ 、 $\overline{EF}$  之中點  $W$ 、 $X$ 、 $Y$ 、 $Z$   
 ② 連  $\overline{WX}$  交  $\overline{AC}$  於  $P$ ，連  $\overline{XY}$  交  $\overline{AD}$  於  $Q$ ，連  $\overline{YZ}$  於  $\overline{AE}$  於  $R$   
 ③ 在  $\overline{WX}$  上取一點  $T$  使得  $\overline{XT} = \overline{WP}$   
 在  $\overline{XY}$  上取一點  $U$  使得  $\overline{XU} = \overline{YQ}$   
 在  $\overline{YZ}$  上取一點  $V$  使得  $\overline{YV} = \overline{ZR}$   
 ④ 連  $\overline{WU}$ 、 $\overline{YT}$  令  $\overline{WU}$  交  $\overline{YT}$  於  $M$   
 ⑤ 連  $\overline{TV}$ 、 $\overline{ZM}$  令  $\overline{TV}$  交  $\overline{ZM}$  於  $N$   
 ⑥ 連  $\overline{AN}$  且在  $\overline{AN}$  上取一點  $G$  使得  $\overline{NG} = \frac{1}{3} \overline{AN}$   
 則  $G$  即為所求 #



圖二十一

## 五、結論與討論

經由一連串的演繹，我們終於推導並證明出較簡潔而且有系統的方法來找尋不規則凸多邊形的重心。

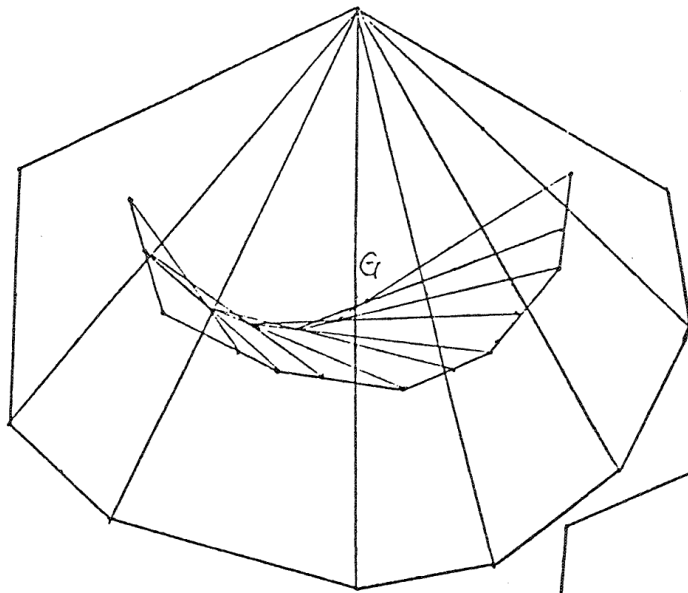
首先由三角形我們可以印證：重心在面積之平分線交點上。所以我們一開始就以找尋面積平分線為出發點，進而發展到重心在多邊形之部分重心的連線段上，這是一個相當重要的性質，雖然我們後來發展出的方法較迅捷，但基本的原理還是以此為基礎的。綜合以上的推論我們可以歸納出兩種方法來：

即(一)將  $n$  多邊形分割成  $(n - 2)$  個相鄰的三角形，再找到這  $(n - 2)$  個三角形的重心  $G_1、G_2、\dots、G_{n-2}$ ，再藉由相鄰重心連線與所夾對角線之交點而作出此  $n$  邊形之重心，方法可參照(一)、C、3、(1)。

(二)  $n$  邊形的重心亦可先將此  $n$  多邊形分割成  $(n - 2)$  個相鄰的三角形，藉由找出的  $P_1、P_2、\dots、P_{n-2}$  等  $(n - 2)$  個邊中點，再藉連接相鄰的中點與所夾對角線之交點而作出此  $n$  邊形之重心，方法可參照(一)、C、3、(2)。

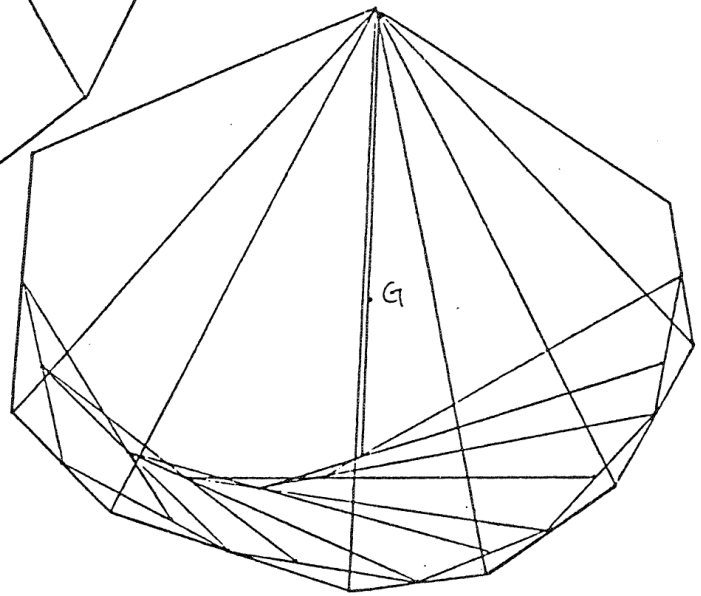
## 六、驗證

我們以厚度均勻的壓克力板製成七邊、八邊及九邊形，依上述之方法均可找到該多邊形之均衡點，證實了我們所找尋之方法的實用及確實性。



## 七、參考書目

- (一)國中數學選修上冊
- (二)國中數學選修下冊
- (三)國中理化第二冊



## 評語

本件作品，學生能夠從三角形的重心之求法推廣至多邊形的重心之求法，而且做出一系列相當嚴密的推論過程，對國中組而言，實在是一件不可多得之作品。